



UNIVERSIDADES PÚBLICAS DE LA COMUNIDAD DE MADRID
PRUEBA DE ACCESO A ESTUDIOS UNIVERSITARIOS (LOGSE)

Curso 2007-2008

MATERIA: GEOGRAFÍA

INSTRUCCIONES GENERALES Y VALORACIÓN

Dispone de dos opciones para contestar (A y B). **Debe escoger exclusivamente una de ellas.**

La puntuación total será en ambas opciones de **10 puntos**, correspondiendo a la primera parte **1,5 puntos**, a la segunda **4 puntos**, a la tercera **2,5 puntos** y **2 puntos** a la cuarta.

TIEMPO. Duración de la prueba: “1 hora y 30 minutos”.

OPCIÓN A

1ª Parte

Defina, en el cuadernillo adjunto, **seis** de los siguientes términos o conceptos geográficos, utilizando como máximo una cara del cuadernillo:

Curva de nivel, Campiña, Evapotranspiración, Escala, Padrón Municipal, Movimiento pendular, Plano ortogonal, Dehesa.

Puntuación máxima: 1,5 puntos.

2ª Parte

Tema: **“La organización territorial del Estado español”.**

Desarrolle, de manera sintética, el tema propuesto (utilice, como máximo, ambas caras de un folio). Como indicativos se señalan los siguientes epígrafes:

- El Estado de las Autonomías.
- La Constitución de 1978.
- Las raíces históricas.
- Las diferencias geográficas de las Comunidades españolas.

Puntuación máxima: 4 puntos.

3ª Parte

Comentario de la fotografía adjunta:

Comente el paisaje de la lámina adjunta, atendiendo, al menos, a:

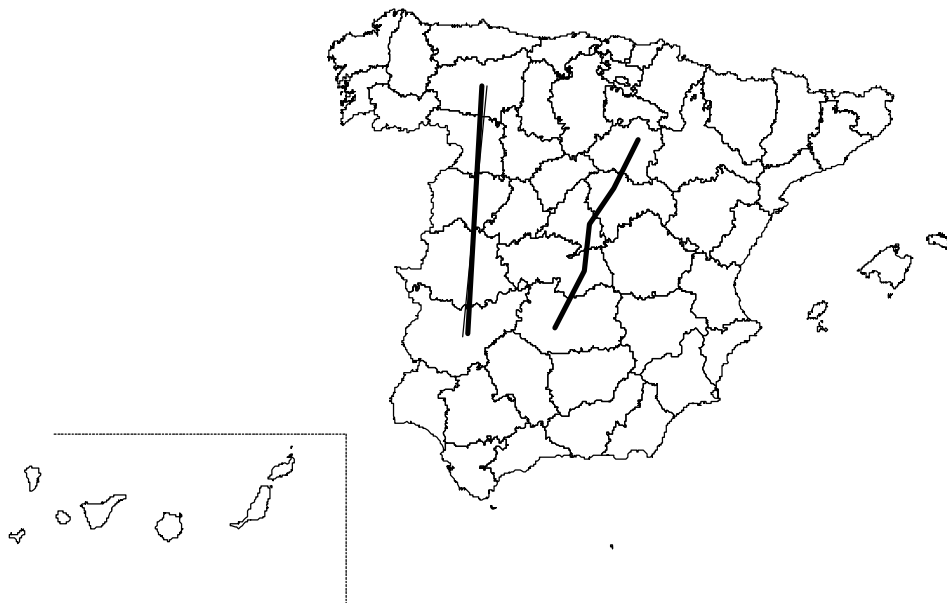
- a) Unidades del paisaje. Haga especial hincapié en las transformaciones recientes del mismo.
- b) Cambios en los usos del suelo.
- c) Manifestaciones espaciales de las actividades económicas y del poblamiento.

Puntuación máxima: 2,5 puntos.

4ª Parte

A la vista del mapa adjunto, “Provincias recorridas por las vías pecuarias de La Plata y Soriana Oriental”, señale dichas provincias (marcadas por los dos “transectos”) y la importancia histórica y actual de las mismas.

Puntuación máxima: 2 puntos.



INSTRUCCIONES GENERALES Y VALORACIÓN

Dispone de dos opciones para contestar (A y B). Debe escoger exclusivamente una de ellas.
La puntuación total será en ambas opciones de **10 puntos**, correspondiendo a la primera parte **1,5 puntos**, a la segunda **4 puntos**, a la tercera **2,5 puntos** y **2 puntos** a la cuarta.
TIEMPO. Duración de la prueba: “1 hora y 30 minutos”.

OPCIÓN B

1ª Parte

Defina, en el cuadernillo adjunto, seis de los siguientes términos o conceptos geográficos, utilizando como máximo una cara del cuadernillo:

Clima, Falla, Norte magnético , Niebla, Latifundio, S.I.G., Población activa, Éxodo rural.
Puntuación máxima: 1,5 puntos.

2ª Parte

Tema: **“El poblamiento rural”.**

Desarrolle, de manera sintética, el tema propuesto (utilice, como máximo, ambas caras de un folio).

Como indicativos se señalan los siguientes epígrafes:

- Tipologías del poblamiento rural.
- Cambios y transformaciones.
- El hábitat rural.
- El impacto ambiental del poblamiento rural.

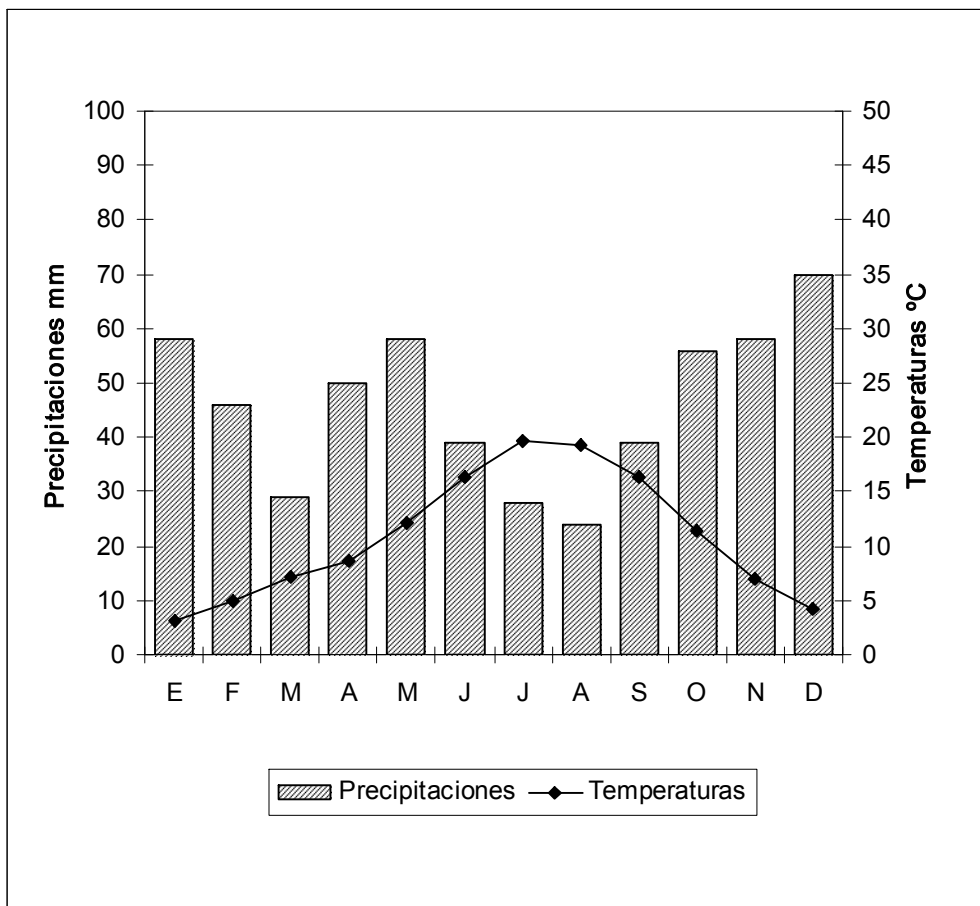
Puntuación máxima: 4 puntos

3ª Parte

Comentario del gráfico: Realice un comentario del climodiagrama adjunto, atendiendo, al menos, a los siguientes aspectos:

- Evolución de las temperaturas y precipitaciones medias mensuales.
- Pertenencia a alguna de las variedades climáticas de España.
- Explique cómo se refleja en él, el concepto de aridez.

Puntuación máxima: 2,5 puntos.

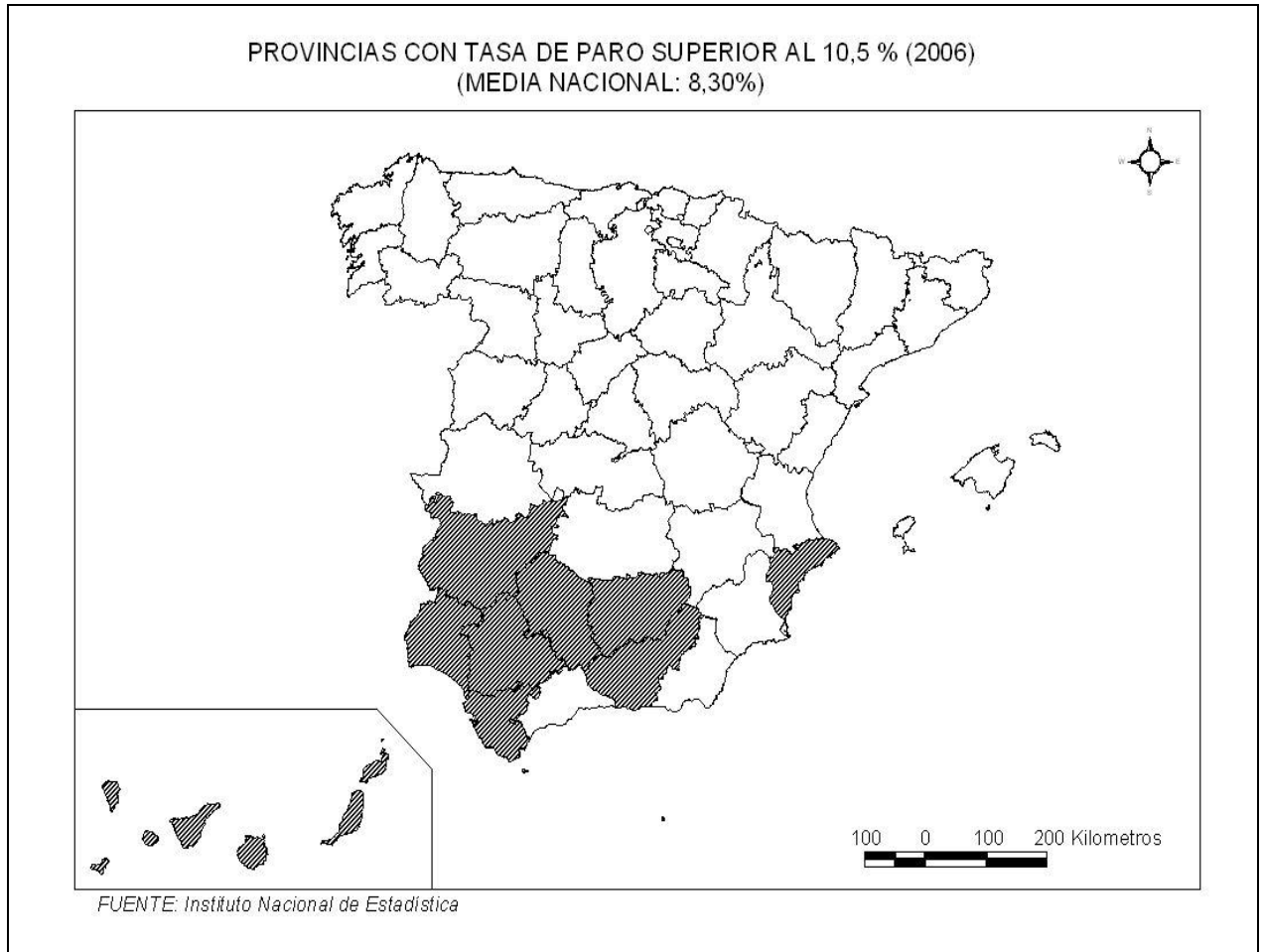


Altitud: 920 m. .
Temperatura media anual: 11 °C .
Precipitaciones totales: 533,4 mm.

4ª Parte

A la vista del mapa adjunto, ***“Provincias con una tasa de paro superior al 10,5%, en 2006”***, indique el nombre de las provincias “tramadas” pertenecientes a dicha categoría; señale las razones que explican esta distribución y comente algunas consecuencias emanadas de este hecho.

Puntuación máxima: 2 puntos.



CRITERIOS ESPECÍFICOS DE CORRECCIÓN

A) CRITERIO GENERAL:

La puntuación total será en ambas pruebas de **10 puntos**, correspondiendo a la primera parte **1'5 puntos**; a la segunda, **4 puntos**; a la tercera, **2'5 puntos**, y a la cuarta parte, **2 puntos**. La estructura y los criterios de corrección serán los siguientes, tanto para la **Opción A** como para la **Opción B**.

B) CRITERIOS CONCRETOS:

1ª. Primera parte: **1,5 puntos** (cada término o concepto: **0'25 puntos**).

Definición de una serie de *términos geográficos y conceptos*. Las respuestas deberán valorarse con un criterio amplio, ya que son numerosas las correctas posibilidades expresivas. En todo caso, se atenderá a la precisión geográfica en la caracterización del término o concepto, y, a la claridad conceptual.

2ª. Primera parte: **4 puntos**

Trata del “*desarrollo de un tema*”, valorando fundamentalmente la ordenación, la estructuración, la coherencia expositivo-argumentativa; la claridad, la precisión y la organización sintética de los conocimientos junto con la correcta localización, la comprensión y caracterización de los fenómenos geográficos que se suman al grado y profundidad de los conocimientos.

3ª. Primera parte: **2,5 puntos**

Propone “*el comentario de un documento geográfico*”.

* **Opción A:** “*Comentario de una lámina*”. Se valorará positivamente la existencia de una metodología de comentario de fotografías: **Paisaje de la provincia de Zaragoza (Nuévalos)**.

* **Opción B:** “*Comentario de un instrumento gráfico*”. Se valorará la capacidad de extraer información, analizar los datos y caracterizar la situación, en una relación causa-efecto. **Climodiagrama de León**.

4ª. Primera parte: **2 puntos**

Presenta unos *mapas* cuyo comentario tiene una puntuación máxima de **2 puntos**; en ellos debe atenderse a la correcta localización y caracterización de los elementos solicitados.

Opción A: **Badajoz, Cáceres, Salamanca, Zamora, León, Ciudad Real, Toledo, Madrid, Guadalajara, Soria.**

Opción B: **Santa Cruz de Tenerife, Las Palmas, Badajoz, Huelva, Córdoba, Sevilla, Cádiz, Jaén, Granada, Alicante.**

En las cuatro partes de que consta la prueba, se considerarán elementos de ponderación; v.gr.: la calidad de la redacción, la corrección expositivo-argumentativa, la gramatical y la ortografía.

LA LÁMINA NO SE ENVÍA PORQUE OCUPA MUCHO ESPACIO Y NO TIENE CAPACIDAD EL CORREO PARA ENVIARLO. SE REMITIÓ AYER CON ELLA Y NOS HA SIDO DEVUELTO.