

**INSTRUCCIONES GENERALES Y VALORACIÓN**

Dispone de dos opciones para contestar (A y B). Debe escoger exclusivamente una de ellas.

La puntuación total será en ambas opciones de **10 puntos**, correspondiendo a la primera parte **3,5 puntos** (1,5 puntos al apartado 1.1 y 2 puntos al apartado 1.2), **4 puntos** a la segunda parte y a la tercera **2,5 puntos**.

**TIEMPO. Duración de la prueba:** 1 hora y 30 minutos.

**OPCIÓN A****1ª Parte**

1.1. *Cuestiones:* Defina, en el cuadernillo adjunto, los siguientes términos o conceptos geográficos, utilizando como máximo una cara del cuadernillo:

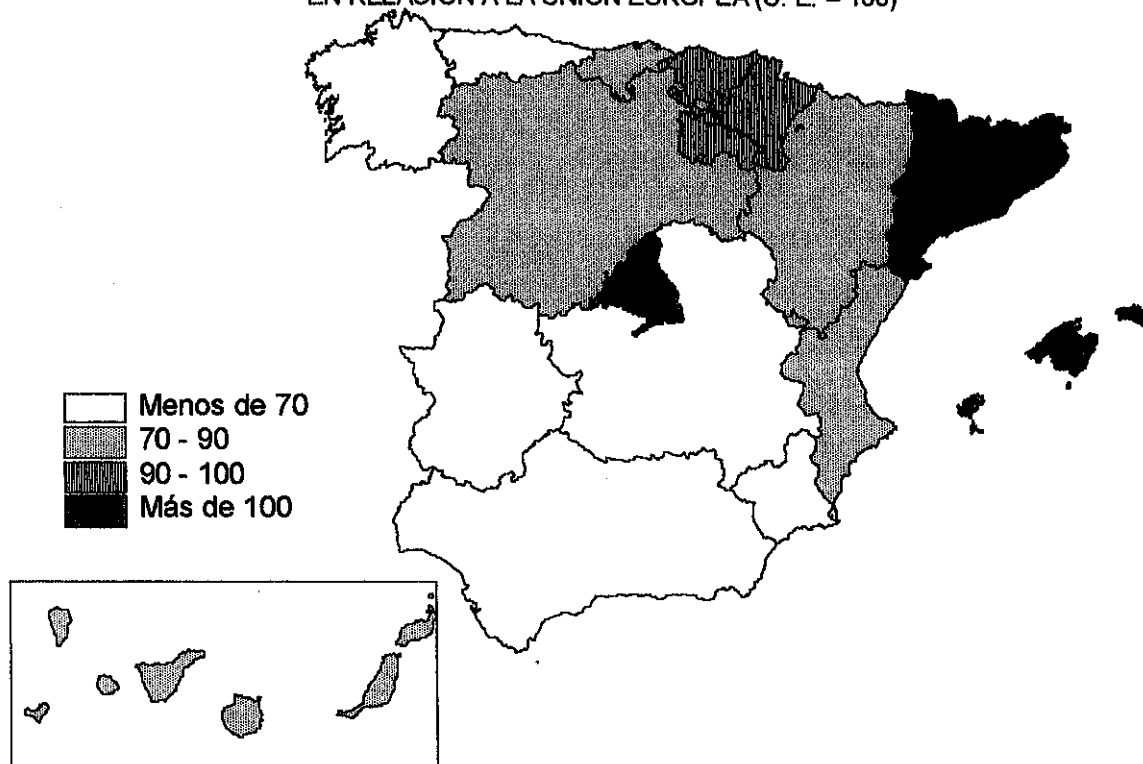
**Caladero, Endorreísmo, Ensanche urbano, Humedad relativa del aire, Humus, PYME.**

*Puntuación máxima: 1,5 puntos.*

1.2. A la vista del "mapa del P.I.B. en relación a la UE (UE=100) de las Comunidades Autónomas en 1998", indique qué Comunidades superan el índice 90. Explique las razones que motivan este hecho.

*Puntuación máxima: 2 puntos.*

MAPA DEL PIB DE LAS COMUNIDADES AUTÓNOMAS EN 1998  
EN RELACIÓN A LA UNIÓN EUROPEA (U. E. = 100)



Ejercicio nº

Página nº 2

**2ª Parte**Tema: "*Los dominios climáticos de la España Peninsular*".

Desarrolle, de manera sintética, el tema propuesto (utilice, como máximo, ambas caras de un folio), atendiendo al menos a los siguientes aspectos :

- Tipos de climas y sus características.
- Factores que inciden en los climas peninsulares
- Repercusión de los climas en la actividad económica y en el paisaje

*Puntuación máxima: 4 puntos.*

**3ª Parte****Comentario de la fotografía adjunta :**

Realice un comentario de la imagen adjunta, atendiendo, al menos, a los siguientes aspectos:

- a) Principales elementos del paisaje.
- b) Usos del suelo.

*Puntuación máxima: 2,5 puntos.*

Ejercicio nº 

Página nº 1

**INSTRUCCIONES GENERALES Y VALORACIÓN**

Dispone de dos opciones para contestar (A y B). Debe escoger exclusivamente una de ellas.

La puntuación total será en ambas opciones de **10 puntos**, correspondiendo a la primera parte **3,5 puntos** (1,5 puntos al apartado 1.1 y 2 puntos al apartado 1.2), **4 puntos** a la segunda parte y a la tercera **2,5 puntos**.

**TIEMPO. Duración de la prueba:** 1 hora y 30 minutos.

**OPCIÓN B****1ª Parte**

1.1. *Cuestiones:* Defina, en el cuadernillo adjunto, los siguientes términos o conceptos geográficos, utilizando como máximo una cara del cuadernillo:

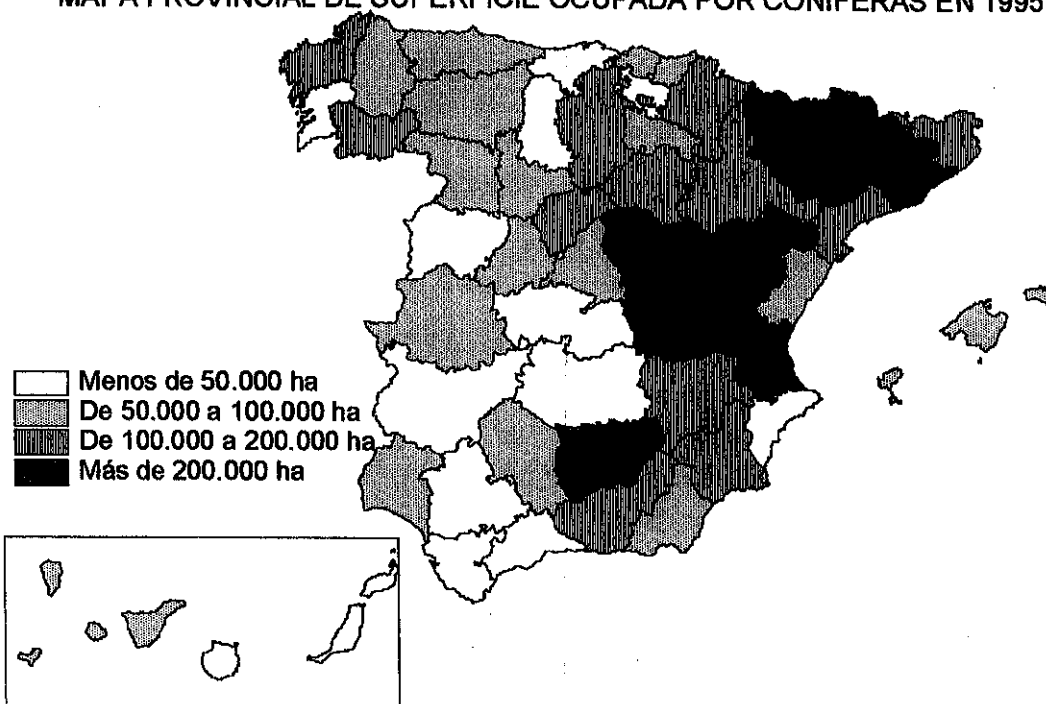
**Emplazamiento, Energías renovables, Estuario, Fondos FEDER, Frente polar, Rocas metamórficas.**

*Puntuación máxima: 1,5 puntos.*

1.2. A la vista del "mapa provincial de superficie ocupada por coníferas en 1995" indique qué provincias superan las 200.000 ha. de coníferas, los factores que explican este hecho y las consecuencias que se derivan de él.

*Puntuación máxima: 2 puntos.*

MAPA PROVINCIAL DE SUPERFICIE OCUPADA POR CONÍFERAS EN 1995



**2ª Parte****Tema: "El poblamiento rural y urbano"**

Desarrolle, de manera sintética, el tema propuesto (utilice, como máximo, ambas caras de un folio), atendiendo al menos a los siguientes aspectos :

- Factores y características del poblamiento rural.
- Las ciudades españolas: la influencia de la situación y el emplazamiento.
- El peso de la historia en la estructura urbana.

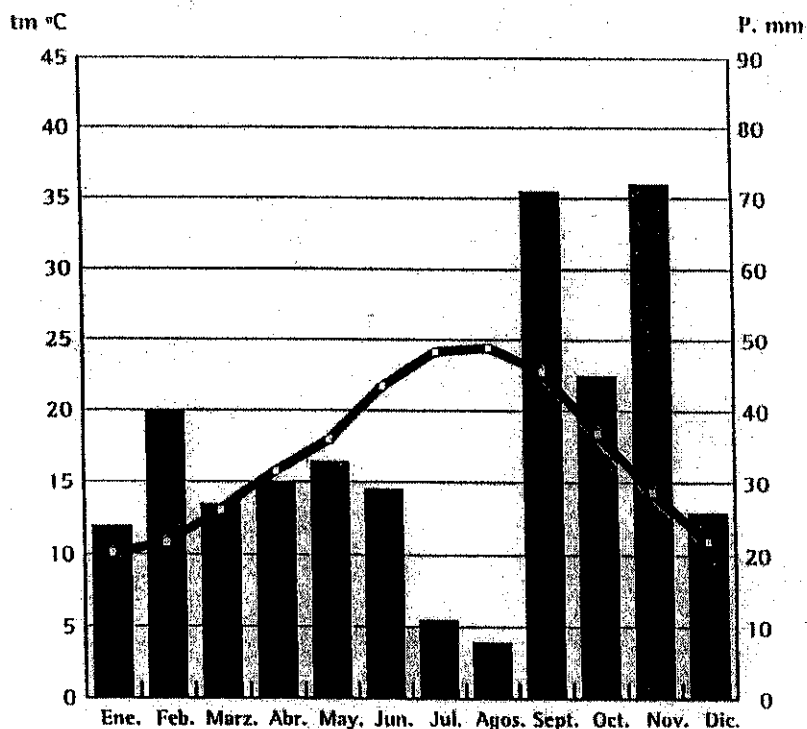
*Puntuación máxima: 4 puntos.*

**3ª Parte****Comentario del gráfico adjunto:**

Realice un comentario del climograma adjunto, atendiendo a los siguientes aspectos:

- Caracterización del clima. Descripción de sus distintos elementos.
- Tipo de clima al que pertenece
- Vegetación correspondiente.

*Puntuación máxima: 2,5 puntos.*



tm anual: 17,0 °C

Pm anual: 416 mm

# GEOGRAFÍA

